


S-PROV

Här tittar lille Egon upp:



Vilken ton har Egon som ögon?

Svar:

Vilken ton har Egon som nos?

Svar:

Vilken ton har Egon som mun?

Svar:

Med Egons öron kan Egon inte bara höra, för han kan också

(tonens namn).

Rita en döskalle på treklanger som inte är riktiga treklanger (alltså inte dur- eller mollackord)

1. 2. 3. 4. 5. 6. 7. 8. 9.

Skriv noterna i C durs skala

C E G etc.

och i A molls skala:

A C E etc.



F dur-skalan:

F C etc.



D moll-skalan:

D A Etc.

Vad heter tonersta?



HITTA DE TAKTER SOM HAR FÖR MÅNGA
TONER. Markera dem genom att överkludda en
(ful) karta över närmaste vägen till Falköping.



DRA STRECK MELLAN DET SOM
BETYDER SAMMA SAK

SNASK (exempel)

SVAGT

SNABBT

FULT

GALET

HÖGT

MÖRKT

LÅNGSAMT

ORYTMISKT

KÄNSLIGT

LUGNT GÅENDE

STARKT

UTOMHUS

GRÄSLIGT

LEGATO

BLOMMA

VIDRIGT

GODIS

ANDANTÉ

MED FEELING

SAKTA

MED PIPIGA DISKRANTONER

ILLALÅTANDE

MED HÖG VOLYM

MED LÅG VOLYM

FORT

MED SVAJJIG TAKT

CRAZY

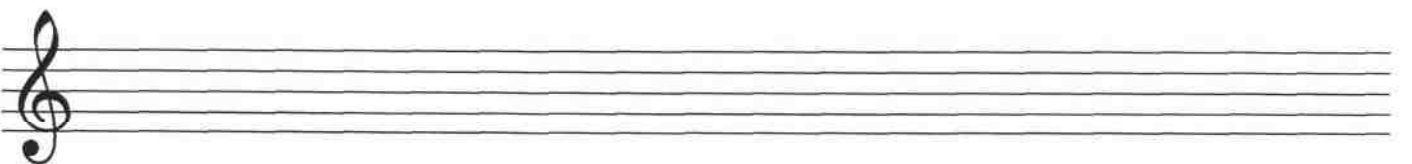
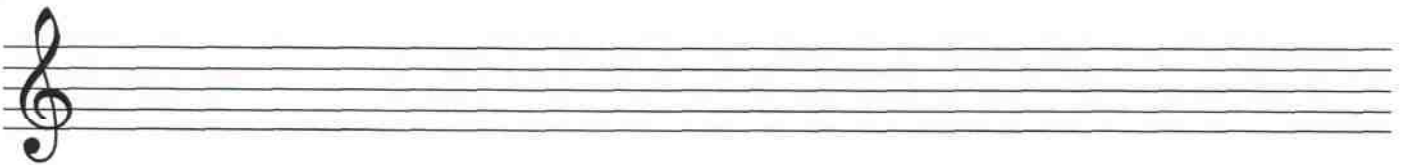





NATTSTART, ONT

OUTOMHOUSE

SAMMANBUNDET




GEHÖR



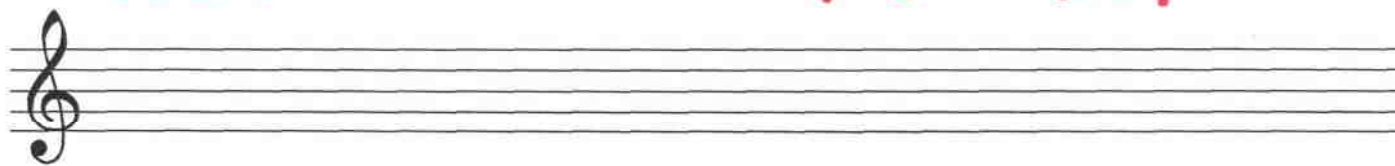
Hur många
ben har **C** durs skala? svar:

Hur många ben har den här 1000-fötningen?
(kuggfråga)

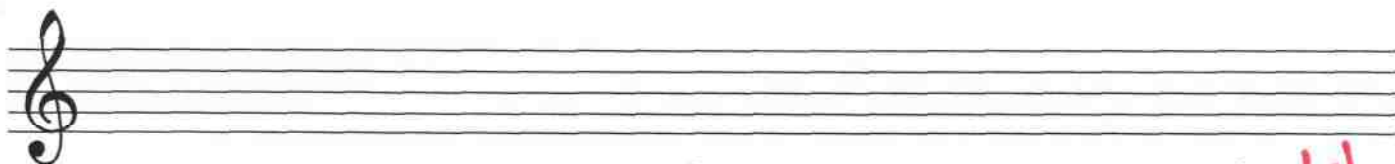


sva r :

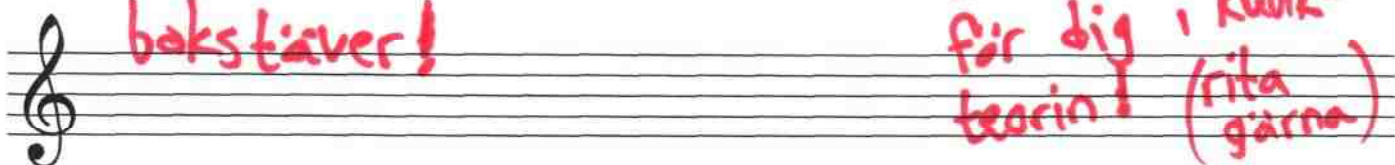
sjung fötningen!



Skriv en trudelutt
med 5 toner.
Bara från
C durs skala. ! $\frac{4}{4}$ Halvnot fjärdedel fjärdedel halv- halv-
not not



Skriv ditt namn med
bokstäver!



Hitte på en symbol
för dig i kubik-
teorin! (rita
gärna)

sva r : _____

sva r : använd
(nästa sida)

Min symbol: